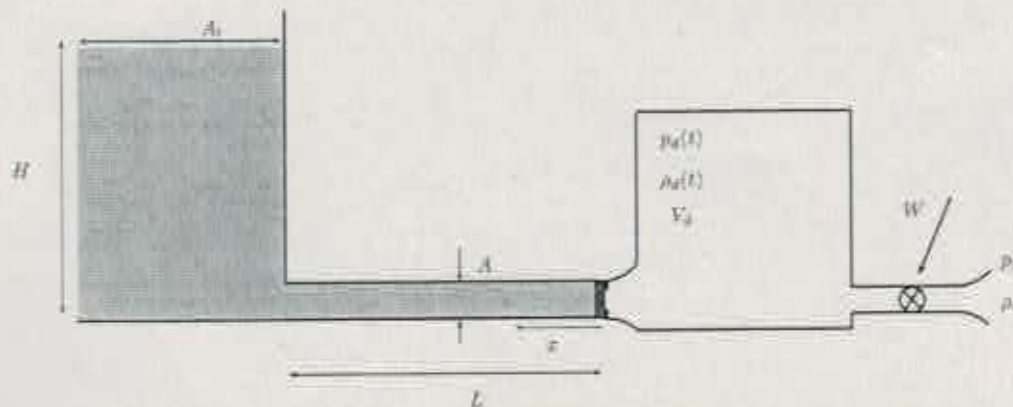


La figura representa dos depósitos de volumen  $V_l = A_l H$  y  $V_d$  unidos por una tubería de longitud  $L$  y área  $A$  que inicialmente está llena de líquido. El depósito de la izquierda está lleno hasta una altura  $H \gg A^{1/3}$  con un líquido con densidad  $\rho_l$ . El depósito de la derecha, que está aislado térmicamente, está lleno de un gas que inicialmente tiene una presión y una densidad  $p_0$  y  $\rho_0$ . Ambos depósitos están separados por un émbolo de masa  $m_e$  que puede moverse en la dirección del depósito de líquido. Si en  $t = 0$  el compresor comienza a introducir un gasto  $G$  conocido en el depósito de la derecha,

1. Obtenga el instante de tiempo en el que el émbolo empieza a moverse y la potencia de la bomba  $W$  que es necesaria para que eso ocurra.
2. Obtenga el sistema de ecuaciones que permite obtener la presión del depósito y la velocidad de movimiento del émbolo  $v_e = dx_e/dt$  si la bomba sigue introduciendo un gasto  $G$  de gas en el depósito de la derecha. Asuma que  $v_e A t / A_l \ll H$  para todo  $t$ .
3. Resuelva el sistema anterior en el caso  $x_e/L \ll 1$ . Obtenga el valor de la sobrepresión máxima alcanzada en el líquido en función del tiempo.
4. Si en un instante dado la potencia del compresor alcanza su valor máximo  $W_{max}$ , obtenga la velocidad de movimiento del émbolo y la relación entre las presiones a ambos lados del mismo.

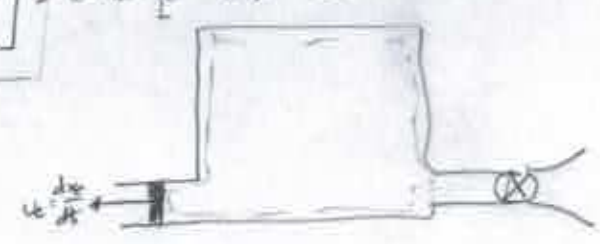


① Compresor:  $w = G \cdot h_a \cdot \left[ \left( \frac{p_2}{p_1} \right)^{\frac{\gamma-1}{\gamma}} - 1 \right]$   
 Ec. energía gas:  $\frac{d}{dt} \left( \frac{p_2}{p_1} \frac{V_d}{r-1} \right) = \frac{G \cdot h_a}{p_1} \left( \frac{p_2}{p_1} \right)^{\frac{\gamma-1}{\gamma}}$

$\pi = \frac{p_2}{p_1} \Rightarrow \frac{d\pi}{dt} = \frac{G \cdot h_a}{p_1 \cdot V_d} (\gamma-1) \pi^{\frac{\gamma-1}{\gamma}}$   
 $\pi^{\frac{\gamma}{\gamma-1}} - 1 = \frac{G \cdot h_a}{p_1 \cdot V_d} \frac{\gamma-1}{\gamma} t$

Líquido:  $p_2 = p_1 + \rho \cdot g \cdot H$   
 $\pi_{20} = \frac{p_2}{p_1} = 1 + \frac{\rho \cdot g \cdot H}{p_1} \Rightarrow \pi = \pi_{20} \quad t_c = \left( \pi_{20}^{\frac{\gamma}{\gamma-1}} - 1 \right) \cdot \frac{p_1 \cdot V_d}{G \cdot h_a} \cdot \frac{\gamma}{\gamma-1}$

$w = G \cdot h_a \cdot \left[ \left( 1 + \frac{G \cdot h_a}{p_1 \cdot V_d} \frac{\gamma-1}{\gamma} t_c \right)^{\frac{\gamma}{\gamma-1}} - 1 \right] = G \cdot h_a \cdot \left[ 1 + \frac{\rho \cdot g \cdot H}{p_1} \right]^{\frac{\gamma}{\gamma-1}} - 1$



② Continuidad:  $\frac{d}{dt} \left( \rho_d \cdot V_d \cdot \left( 1 + \frac{A \cdot x_c}{V} \right) \right) = G \quad (1)$

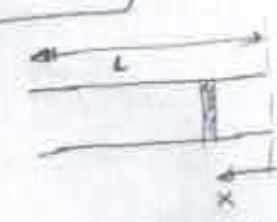
Energía:  $\frac{d}{dt} \left( \rho_d \cdot \frac{V_d}{r-1} \cdot \left( 1 + \frac{A \cdot x_c}{V} \right) \right) = G \cdot h_a \cdot \left( \frac{p_2}{p_1} \right)^{\frac{\gamma-1}{\gamma}} - \rho_d \cdot \frac{dx_c}{dt} \cdot A \quad (2)$

Combinando ① y ②  $\Rightarrow \frac{p_2}{p_1} = \frac{p_1}{p_2}$

$\rho_d \left( \frac{p_2}{p_1} \right)^{\frac{\gamma}{\gamma-1}} V_d \cdot \left( 1 + \frac{A \cdot x_c}{V} \right) \cdot \frac{dx_c}{dt} = G \cdot (t - t_c)$

$\frac{V_d}{p_1} \cdot \left( 1 + \frac{A \cdot L}{V_d} \frac{x_c}{L} \right) = \frac{G}{\rho_d \cdot V_d} \cdot (t - t_c) + \frac{V_d}{p_1} \quad (3)$

Líquido:  $\frac{dv_c}{dt} + \frac{\partial}{\partial x} \left( \frac{p}{\rho} + \frac{v^2}{2} + v \right) = 0 \quad Q = v_c \cdot A$



$\int_{x_0}^L \frac{dv_c}{dt} dx + \frac{p_{x=L}}{\rho} - \frac{p_{x=x_0}}{\rho} = 0$

$\frac{dv_c}{dt} (L - x_0) = - \frac{\rho + \rho \cdot g \cdot H}{\rho} + \frac{p_2}{\rho}$

$(1 - \frac{x_0}{L}) \cdot \frac{dv_c}{dt} = \frac{\pi_{20} - \left( 1 + \frac{\rho \cdot g \cdot H}{p_1} \right)}{\rho}$

$\frac{L \cdot \rho}{\rho} \frac{dv_c}{dt} \left( 1 - \frac{x_0}{L} \right) = \pi_{20} - \left( 1 + \frac{\rho \cdot g \cdot H}{p_1} \right)$

$t = \frac{\rho \cdot V_d}{G} \tau \quad \left\{ \begin{aligned} \sqrt{\frac{dv_c}{dt} (1 - \bar{x}_0)} &= \pi_{20} - \left( 1 + \frac{\rho \cdot g \cdot H}{p_1} \right) \quad (4) \\ \tau &= \frac{\rho}{p_1} \frac{(G \cdot L / \rho)^2}{\rho \cdot p_1} \end{aligned} \right.$

Ergebnis:  $m_c \frac{dv_c}{dt} = A \rho_a (\pi_d - \pi_e)$

$$\frac{m_c}{\rho_a \cdot A \cdot L} \frac{dv_c}{dt} = \pi_d - \pi_e \quad (5)$$

3)  $\bar{x}_e \propto t \Rightarrow$   $\rho_c \text{ (4) } \& \text{ (5)} \Rightarrow \pi_e \cdot (1 + \bar{m}) = \pi_d + \bar{m} \cdot \left\{ 1 + \frac{\rho_c g H}{\rho} \right\}$

$\rho_c \text{ (3)} \Rightarrow \pi_d^{1/2} = \pi_e^{1/2} + \frac{G}{\rho_a v_d} \cdot (t - t_0) = \pi_e^{1/2} + (t - t_0)$

$\rho_c \text{ (4)} \Rightarrow v \cdot \frac{d\pi_e}{dt} = \pi_e - \left( 1 + \frac{\rho_c g H}{\rho} \right)$

4)  $\pi_e^{1/2} = 1 + \frac{w_{max}}{c h_a}$

$$\frac{A}{\rho_a} = \frac{\pi_d}{\pi_e} - 1 = \left( 1 + \frac{w_{max}}{c h_a} \right)^2$$

$$\Rightarrow \frac{A}{\rho_a} \frac{\rho_d \cdot v_d}{G} \cdot \frac{A L}{v_d} \cdot \frac{d\bar{x}_e}{dt} = G$$

$$\frac{A L}{v_d} \left( \frac{\rho_d}{\rho_a} \right) \frac{d\bar{x}_e}{dt} = 1$$

$$v_e = \frac{v_d}{A L} \cdot \frac{1}{\left( 1 + \frac{w_{max}}{c h_a} \right)^2}$$

$$\pi_d = \pi_e = 1 + \frac{\rho_c g H}{\rho}$$