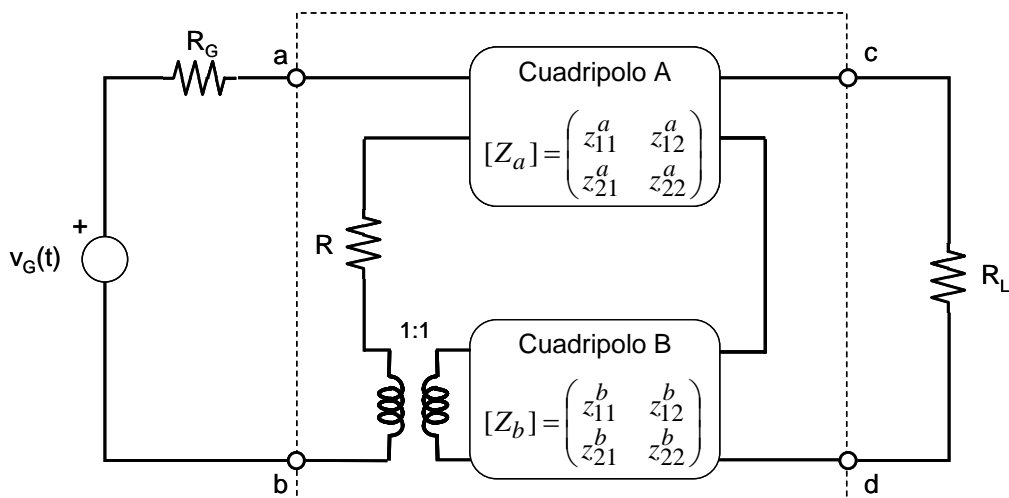


1. Considere la asociación de cuadripolos de la siguiente figura:



Se pide:

- Calcular la matriz de parámetros Z del cuadripolo visto entre las puertas a-b y c-d en función de los parámetros Z de los cuadripolos A y B y de R. **(1 punto)**
- Calcular la impedancia de entrada vista desde las bornas a-b en función de los parámetros Z calculados en a) y  $R_L$ . **(0.5 puntos)**

c) Si  $v_G(t) = \cos(t)$ ,  $R_G = 1$ ,  $R_L = 1$ ,  $R = 1$   $[Z_a] = \begin{pmatrix} j\omega + 0.5 & 1 \\ 1 & 1 \end{pmatrix}$  y  $[Z_b] = \begin{pmatrix} \frac{1}{j\omega} + 0.5 & 1 \\ 1 & 2 \end{pmatrix}$ , calcular

la potencia entregada a la carga, la potencia entregada al cuadripolo y las pérdidas de transmisión en dB. **(1 punto)**

**(2,5 puntos)**

Solución.-

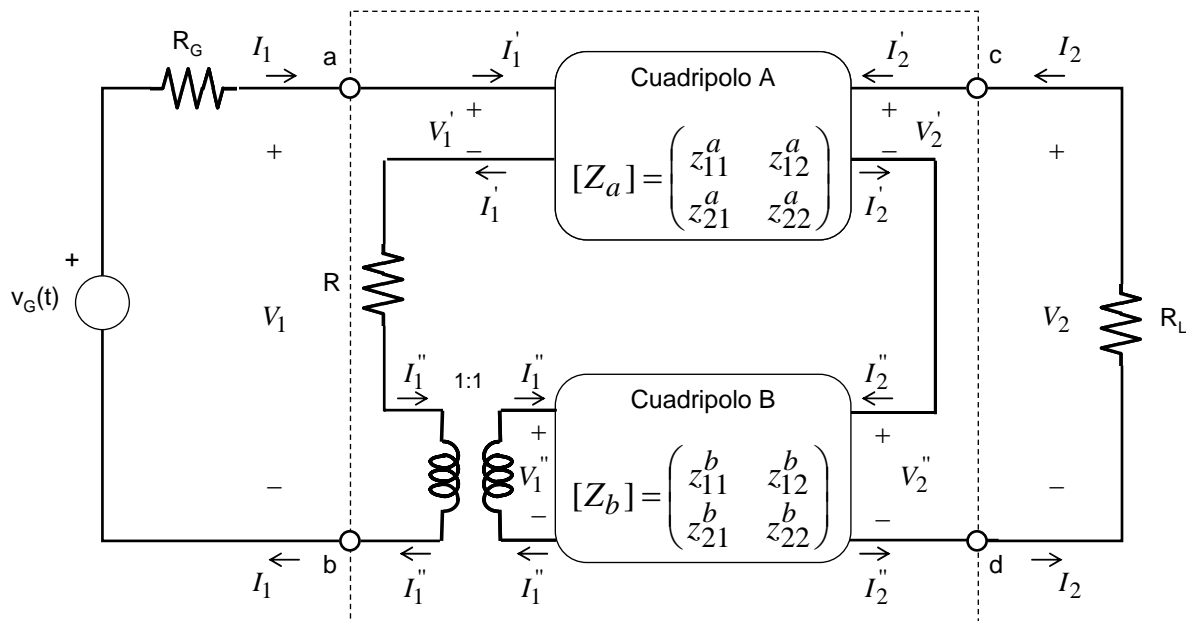
a) El cuadripolo visto entre las puertas a-b y c-d es una asociación serie-serie con la particularidad de que hay una resistencia R entre las puertas 1 de ambos cuadripolos.

Por otro lado, la existencia de un transformado ideal 1:1 garantiza que la corriente circulatoria sea nula. Para hallar la matriz Z de la asociación, se pueden plantear dos métodos:

a1) Circuitos equivalentes de ambos cuadripolos y comprobar que la resistencia R se suma al  $z_{11}$  de uno de los dos cuadripolos.

a2) Análisis circuital:

Apellido 1	Apellido 2	Nombre	DNI	Calificación
------------	------------	--------	-----	--------------



$$\left. \begin{array}{l}
 \text{Cuadripolo ab - cd :} \\
 V_1 = z_{11}I_1 + z_{12}I_2 \\
 V_2 = z_{21}I_1 + z_{22}I_2 \\
 \text{Puerta ab :} \\
 V_1 = V_1' + I_1'R + V_1'' \\
 I_1 = I_1' = I_1'' \\
 \text{Puerta cd :} \\
 V_2 = V_2' + V_2'' \\
 I_2 = I_2' = I_2''
 \end{array} \right\} \rightarrow Z = \begin{pmatrix} z_{11}^A + z_{11}^B + R & z_{12}^A + z_{12}^B \\ z_{21}^A + z_{21}^B & z_{22}^A + z_{22}^B \end{pmatrix}$$

b) La impedancia de entrada del cuadripolo ab-cd viene dada por:  $Z_{in} = \frac{V_1}{I_1}$

Planteando el sistema de ecuaciones del circuito, se tiene:

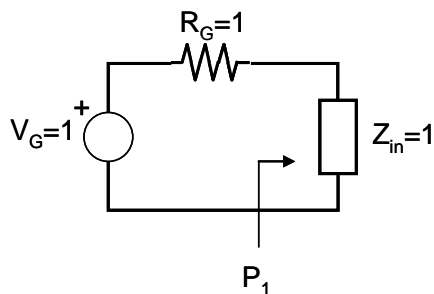
$$\left. \begin{array}{l}
 V_1 = z_{11}I_1 + z_{12}I_2 \\
 V_2 = z_{21}I_1 + z_{22}I_2 \\
 V_2 = -I_2R_L
 \end{array} \right\} \rightarrow Z_{in} = \frac{V_1}{I_1} = z_{11} - \frac{z_{12}z_{21}}{z_{22} + R_L} = \left( z_{11}^A + R + z_{11}^B \right) - \frac{\left( z_{12}^A + z_{12}^B \right) \left( z_{21}^A + z_{21}^B \right)}{z_{22}^A + z_{22}^B + R_L}$$

c) Con los valores dados, para el análisis en r.p.s. con  $\omega=1$ , se tiene:

Apellido 1	Apellido 2	Nombre	DNI	Calificación
------------	------------	--------	-----	--------------

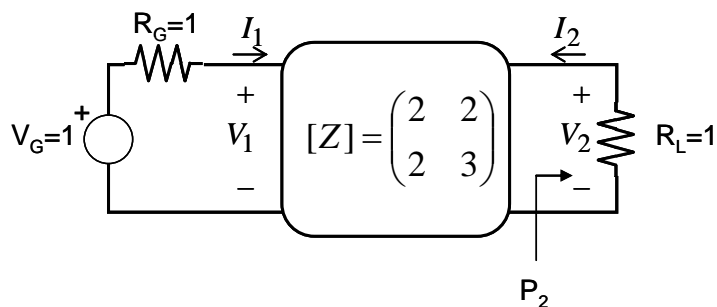
$$\left. \begin{aligned} [Z_a] &= \begin{pmatrix} j+0.5 & 1 \\ 1 & 1 \end{pmatrix} \\ [Z_b] &= \begin{pmatrix} -j+0.5 & 1 \\ 1 & 2 \end{pmatrix} \\ R &= 1 \\ R_L &= 1 \end{aligned} \right\} \rightarrow [Z] = \begin{pmatrix} 2 & 2 \\ 2 & 3 \end{pmatrix} \text{ y } Z_{in} = 1.$$

Al haber adaptación de impedancias, la potencia entregada al cuadripolo es:



$$P_1 = \frac{1}{8} \frac{|V_G|^2}{Z_{in}} = \frac{1}{8} = 0.125W$$

Para calcular la potencia entregada a la carga:



$$\left. \begin{aligned} V_1 &= z_{11}I_1 + z_{12}I_2 = 2I_1 + 2I_2 \\ V_2 &= z_{21}I_1 + z_{22}I_2 = 2I_1 + 3I_2 \\ V_2 &= -I_2R_L = -I_2 \\ V_1 &= V_G - I_1R_G = 1 - I_1 \end{aligned} \right\} \rightarrow V_2 = \frac{1}{4} \rightarrow P_2 = \frac{1}{2} \operatorname{Re}\{V_2^* I_2\} = \frac{1}{2} \operatorname{Re}\{V_2^* V_2 / R_L\} = \frac{1}{2} \frac{1}{16} = \frac{1}{32}W$$

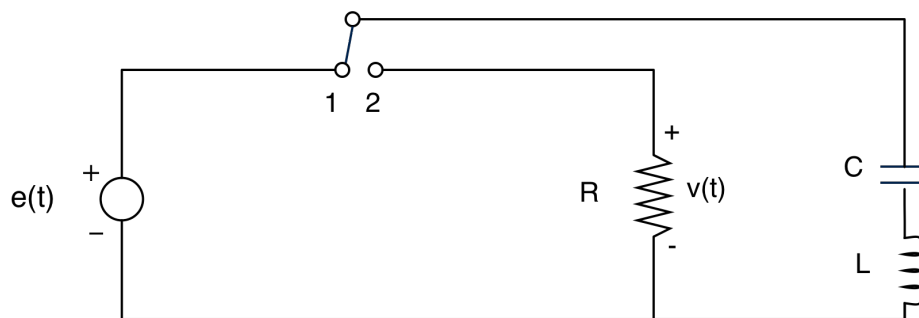
Las pérdidas de transmisión se calculan como la relación entre la potencia entregada al cuadripolo  $P_1$  y la potencia entregada a la carga  $P_2$ :

$$\text{Pérdidas de transmisión} = 10 \log_{10} \left( \frac{P_1}{P_2} \right) = 10 \log_{10} \left( \frac{1/8}{1/32} \right) = 6dB$$

2. La figura representa un circuito cuya excitación es  $e(t)=u(-t-T)$ , siendo  $u(t)$  el escalón unidad. En ella,  $v(t)$  es la tensión en bornas de la resistencia  $R$ .

Por otra parte, el interruptor conmuta de 1 a 2 en el instante  $t=0$ .  $R$ ,  $L$  y  $C$  son todos valores normalizados iguales a 1.  $T$  es un valor mayor que cero.

- Calcule las condiciones iniciales del circuito para el instante  $t = -T$ .
- Usando un cambio de variable  $t' = t + T$ , calcule la tensión en bornas del condensador y la corriente que atraviesa la bobina para el intervalo de tiempo  $t$  entre  $-T$  y 0.
- Calcule las condiciones iniciales del circuito para el instante  $t=0$ . Razone su sentido físico.
- Determinar  $V(p)$ , transformada de Laplace de  $v(t)$ , en función de  $T$ .
- Determinar  $v(t)$ , a qué valor converge cuando el tiempo tiende a infinito, y explique por qué converge a este valor.



(2,5 puntos)

**a.** Hasta  $t < -T$  estamos en una situación de estacionario en continua. La bobina se comporta como un cortocircuito y el condensador en un circuito abierto. Por lo tanto:

$$v_c(-T) = 1$$

$$i_L(-T) = 0$$

**b.** En el intervalo  $-T < t < 0$ , tenemos un circuito con condensador y bobina en serie con las anteriores condiciones iniciales. Usando el cambio de variable descrito, las condiciones iniciales se trasladan a  $t'=0$ .

Sobre este circuito, analizando, tenemos:

$$I_L = -\frac{1}{p^2 + 1} \Rightarrow i_L(t') = -\sin(t') * u(t')$$

$$V_c = -\frac{1}{p(p^2 + 1)} = -1/p + \frac{p}{(p^2 + 1)} \Rightarrow v_c(t') = (-1 + \cos(t')) * u(t')$$

Hay que tener en cuenta que el generador de continua del circuito es una componente continua que supone en realidad una carga en el condensador que cancela el valor de -1 anterior.

Por tanto, hasta  $t=0$ :

$$i_L(t) = -\sin(t+T) * u(t+T)$$

$$v_C(t) = \cos(t+T) * u(t+T)$$

c. En  $t=0$ , sustituyendo el resultado anterior, tenemos:

$$i_L(0) = -\sin(T)$$

$$v_C(0) = \cos(T)$$

El circuito, entre  $-T$  y  $0$  oscila, transfiriendo energía a la pulsación de resonancia (1) entre condensador y bobina. Dependiendo del intervalo  $T$  la distribución de dicha energía entre ambos elementos es distinta.

d. El circuito ahora compone de la asociación serie de bobina, condensador y resistencia, junto con dos generadores asociados a ambas condiciones iniciales. Analizando, queda:

$$I(1+1/p+p) + (\cos T/p + \sin T) = 0$$

$$V_R = -R * I = -I$$

$$V_R = \frac{\cos T + p * \sin T}{(p^2 + p + 1)}$$

e. Haciendo la trasformada inversa mediante residuos queda:

$$v_R(t) = e^{-\frac{t}{2}} \sin T * \left( \cos\left(\frac{\sqrt{3}}{2}t\right) + \left(\frac{2}{\sqrt{3}} * \sin\left(\frac{\sqrt{3}}{2}t\right) * \left(\frac{\cos T}{\sin T} - \frac{1}{2}\right)\right) \right) u(t)$$

se puede aplicar el teorema del valor final, quedando

$$\lim_{t \rightarrow \infty} v_R(t) = \lim_{p \rightarrow 0} p V_R(p) = 0$$

De cualquiera de las dos maneras, se ve que la señal tiende a cero, por que la energía inicialmente almacenada en el conjunto bobina mas condensador se va disipando en la resistencia.

Apellido 1 <b>SOLUCION</b>	Apellido 2	Nombre	DNI	Calificación
-------------------------------	------------	--------	-----	--------------

3. La Figura 1 representa un filtro de capacidades conmutadas (SCF) con sus fases de reloj. La Figura 2 representa la disposición en cascada de dos filtros SCF, idénticos al de la Figura 1. Se pide:

- 1 p. a. Dibujar los circuitos equivalentes en el dominio Z, correspondientes al circuito de la Figura 1 para cada una de las fases de reloj. Escribir las ecuaciones resultantes del análisis por nudos.
- 0.8 p. b. Determinar la matriz de transferencia  $[H(z)]$ , que relaciona las transformadas Z de las secuencias pares e impares de la tensión de salida ( $v_2$ ) con las correspondientes de la entrada ( $v_1$ ) en el circuito de la Figura 1. ¿En qué condiciones se cumple la estabilidad en  $[H(z)]$ ?
- 0.7 p. c. Determinar razonadamente la matriz de transferencia  $[\tilde{H}(z)]$  correspondiente al circuito de la Figura 2. Suponiendo  $C_1 = C_2 = C_3$ , ¿qué tipo de filtrado ofrece el circuito de la Figura 2?

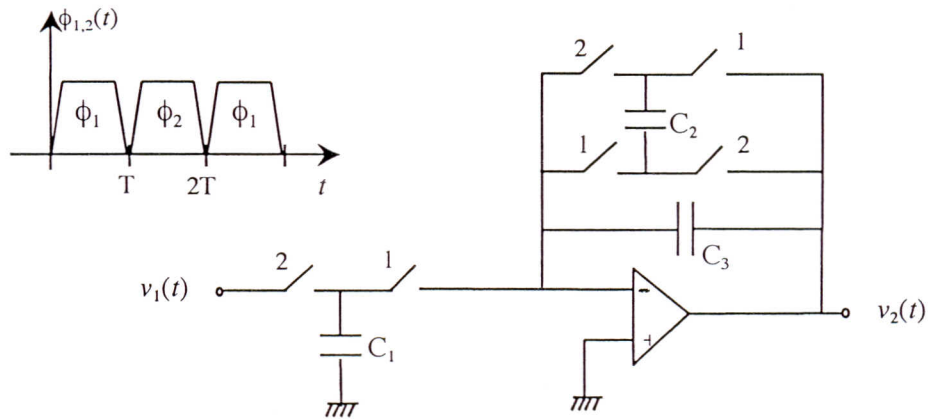


Figura 1

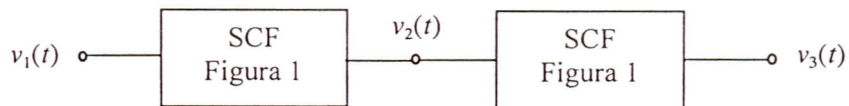
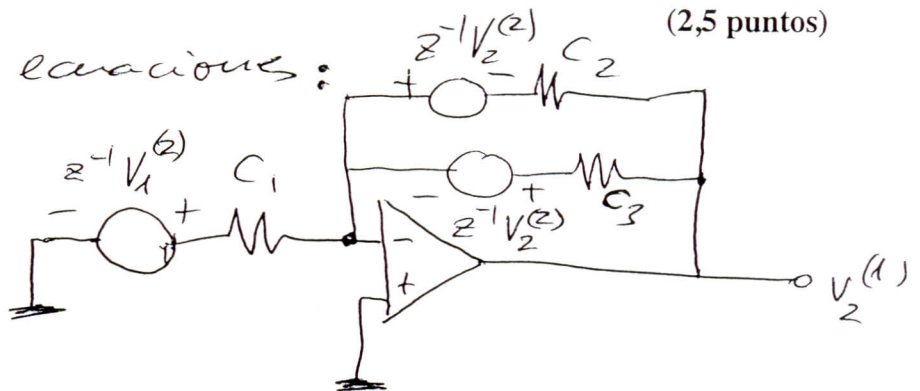


Figura 2

(a) Circuitos, ecuaciones: (2,5 puntos)

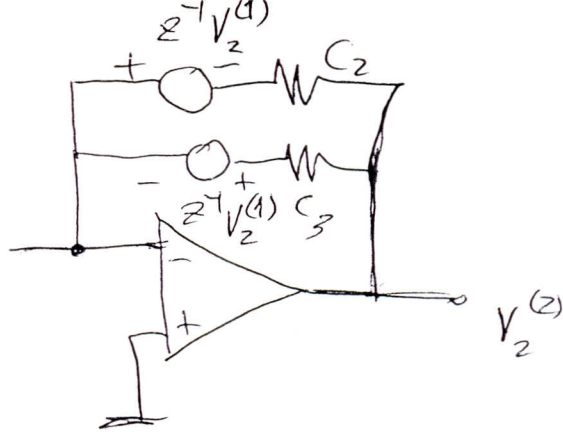
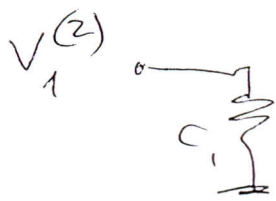
Fase  $\phi_1$ :



ecuación:

$$C_1 z^{-1} V_1^{(z)} + C_2 [V_2^{(1)} + z^{-1} V_2^{(z)}] + C_3 [V_2^{(1)} - z^{-1} V_2^{(z)}] = 0$$

Fase  $\phi_2$ :



ecuación:

$$C_2 [V_2^{(2)} + z^{-1} V_2^{(1)}] + C_3 [V_2^{(2)} - z^{-1} V_2^{(1)}] = 0$$

Las dos ecuaciones en forma matricial son

$$\begin{pmatrix} (C_2 + C_3) & (C_2 - C_3)z^{-1} \\ (C_2 - C_3)z^{-1} & (C_2 + C_3) \end{pmatrix} \begin{pmatrix} V_2^{(1)} \\ V_2^{(2)} \end{pmatrix} = \begin{pmatrix} 0 & -C_1 z^{-1} \\ 0 & 0 \end{pmatrix} \begin{pmatrix} V_1^{(1)} \\ V_1^{(2)} \end{pmatrix}$$

(b) Despejando el vector de salida, se tiene

$$\begin{pmatrix} V_2^{(1)} \\ V_2^{(2)} \end{pmatrix} = \frac{-1}{(C_2 + C_3)^2 - (C_2 - C_3)^2 z^{-2}} \begin{pmatrix} 0 & C_1 (C_2 + C_3) z^{-1} \\ 0 & C_1 (C_3 - C_2) z^{-2} \end{pmatrix} \begin{pmatrix} V_1^{(1)} \\ V_1^{(2)} \end{pmatrix}$$

Identificando, se tiene

$H_{11}(z) = 0 ;$	$H_{12}(z) = - \frac{C_1 (C_2 + C_3) z^{-1}}{(C_2 + C_3)^2 - (C_3 - C_2)^2 z^{-2}}$
$H_{21}(z) = 0 ;$	$H_{22}(z) = - \frac{C_1 (C_3 - C_2) z^{-2}}{(C_2 + C_3)^2 - (C_3 - C_2)^2 z^{-2}}$

Apellido 1	Apellido 2	Nombre	DNI	Calificación

El circuito es estable BIBO si los polos de todas las  $H_{ij}(z)$  están dentro de círculo unidad:  $|z| < 1$ .

Para ello, debe cumplirse

$$\left| \frac{c_3 - c_2}{c_3 + c_2} \right| < 1 \Leftrightarrow c_2 \neq 0 \text{ y } c_3 \neq 0$$

$$(c_2 > 0 \text{ y } c_3 > 0)$$

(c) Para la Figura 2, se tiene

$$\begin{pmatrix} V_3^{(1)} \\ V_3^{(2)} \end{pmatrix} = [H(z)] \cdot \begin{pmatrix} V_2^{(1)} \\ V_2^{(2)} \end{pmatrix} = [H(z)] \cdot \left( [H(z)] \cdot \begin{pmatrix} V_1^{(1)} \\ V_1^{(2)} \end{pmatrix} \right)$$

entonces,

$$[\tilde{H}(z)] = [H(z)] \cdot [H(z)] = \begin{pmatrix} 0 & H_{12}(z) \cdot H_{22}(z) \\ 0 & H_{22}(z) \cdot H_{22}(z) \end{pmatrix}$$

es decir,

$$\tilde{H}_{11}(z) = \tilde{H}_{21}(z) = 0$$

$$\tilde{H}_{12}(z) = \frac{c_1^2 (c_3 - c_2) z^{-3}}{[(c_2 + c_3)^2 - (c_3 - c_2)^2 z^{-2}] z}; \quad \tilde{H}_{22}(z) = \frac{c_1^2 (c_3 - c_2)^2 z^{-4}}{[(c_2 + c_3)^2 - (c_3 - c_2)^2 z^{-2}] z^2}$$

$$\text{si } c_1 = c_2 = c_3 \Rightarrow \tilde{H}_{11} = \tilde{H}_{21} = \tilde{H}_{12} = \tilde{H}_{22} = 0$$

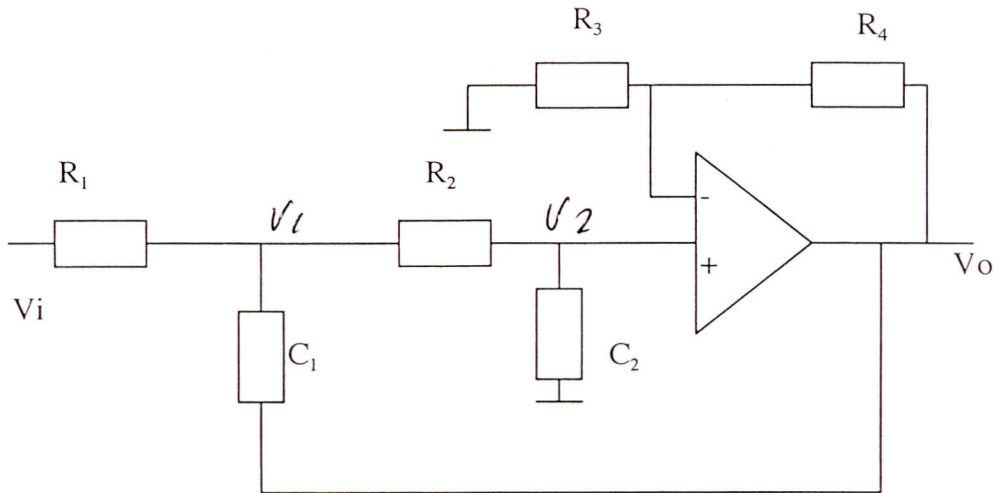
Es un circuito "RECHAZA TODO" (no hay señal a la salida): la señal de salida (discreta) es siempre cero



Apellido 1	Apellido 2	Nombre	DNI	Calificación

4.- Considere el filtro activo de la figura. Calcular:

- La función de transferencia  $H(s) = V_o/V_i$  *0'5 p*
- Suponiendo  $R_1=R_2=R_3=1$ ;  $C_1=C_2=1$ , determinar  $R_4$  para que el filtro sea de Butterworth. *1 p*  
Calcular la frecuencia de corte a 3 dB
- Obtenga a partir de dicho filtro un filtro paso bajo de orden 4 *0'5 p*
- Desnormalizar dicho filtro de modo que la resistencia  $R_1 = 1 \text{ K}\Omega$  y  $C_1 = 1 \mu\text{F}$ . Indique cual sería la pulsación de corte de dicho filtro. *0'5 p*



a) Aplicando nodos

$$(C_1 s + G_1 + G_2) V_1 - G_2 V_2 - C_1 s V_o - V_1 G_1 = 0$$

$$- G_2 V_1 + V_2 (C_2 s + G_2) = 0$$

$$V_2 G_3 = (V_o - V_2) G_4$$

$$V_2 = V_o \frac{G_3}{G_3 + G_4} = \frac{V_o}{K}$$

$$- G_2 V_1 + V_o K (G_2 s + G_2) = 0$$

$$(C_1 s + G_1 + G_2) V_1 - G_2 V_o K - C_1 s V_o = V_i G_1$$

$$V_1 = \frac{G_2 V_o K + C_1 s V_o + V_i G_1}{C_1 s + G_1 + G_2}$$

$$V_1 = V_o K \frac{C_2 s + G_2}{G_2}$$

$$H(s) = \frac{V_o}{V_i} = \frac{G_1 G_2}{(C_1 s + G_1 + G_2) (C_2 s + G_2) \frac{1}{K} - G_2^2 \frac{1}{K} - C_1 s G_2}$$

$$b) H(s) = \frac{1}{(s+2)(s+1)\frac{1}{k} - \frac{1}{k} - s} = \frac{k}{(s+2)(s+1) - 1 - s/k} = \frac{k}{s^2 + (3-k)s + 1}$$

donde  $k = \frac{G_3 + G_4}{G_4} = \frac{R_3 + R_4}{R_3}$


$$H(s) \cdot H(-s) = \left| H(s) \right|^2 = \frac{k^2}{(s^2+1)^2 - (3-k)^2 s^2} = \frac{k^2}{s^4 + 1} \quad \text{si } 3-k = \pm \sqrt{2}$$

luego  $3-k = \pm \sqrt{2} \quad k = 3 - \sqrt{2} \Rightarrow \frac{1+R_4}{R_3} = 3 - \sqrt{2}$

$R_4 = 2 - \sqrt{2}$

para ser un filtro Butterworth orden 2  
 $\omega_c = 1$

c) Se necesita poner 2 filtros en cascada en



d)

$$\frac{R}{R_0} = R_n \Rightarrow R_0 = 10^3$$

$$C_n = C \omega_0 R_0 \Rightarrow \omega_0 = \frac{1}{10^{-3}} = 10^3 \text{ rad/s}$$